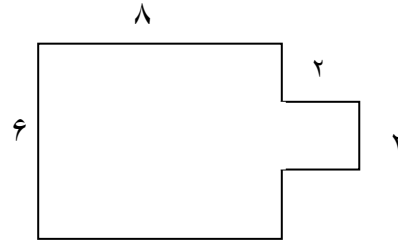
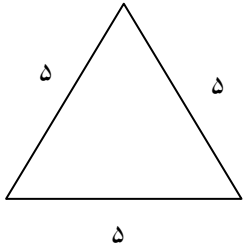
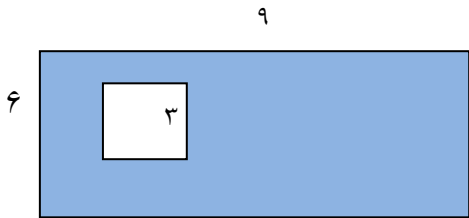


۱- محیط شکل های زیر را بدست آورید.



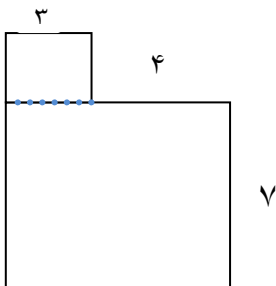
۲- مساحت قسمت رنگی را بنویس .



۳- باغی به شکل مربع داریم . هر ضلع این باغ ۸ متر است . می خواهیم دور تا دور این باغ را نرده بکشیم . برای این کار به چند متر نرده نیاز داریم؟

۴- یک مستطیل به طول ۸ و عرض ۲ سانتیمتر کشیدیم . مساحت این مستطیل چند سانتی متر مربع است ؟

۵- مساحت شکل زیر را بنویس .



۶ - مساحت یک مستطیل ۶۳ سانتی متر مربع است . اگر یک ضلع این مربع ۹ باشد ، ضلع دیگر این مستطیل چند سانتی متر می باشد ؟

۷ - یک مثلث بکش که محیط آن ۱۲ سانتی متر باشد .

۸ - یک مربع بکش که مساحت آن ۱۶ باشد ؟

۹ - یک مستطیل بکش که مساحت آن ۱۴ باشد ؟

۱۰ - محیط یک مربع چند برابر طول یک ضلع آن است ؟.....

۱۱ - محیط یک مثلث متساوی الاضلاع چند برابر طول یک ضلع آن است ؟.....

۱۲ - مثلث متساوی الاضلاع را تعریف کنید؟.....

۱۳ - مثلث متساوی الساقین را تعریف کنید؟.....

۱۵ محیط یک ۶ ضلعی برابر است با .....

۱۶ - محیط ۵ ضلعی مقابل را از راه ضرب بنویس .

