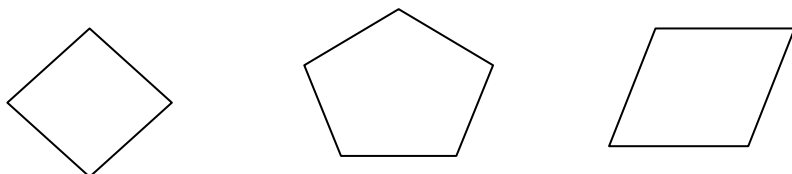
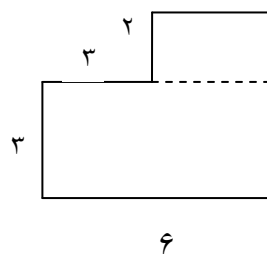
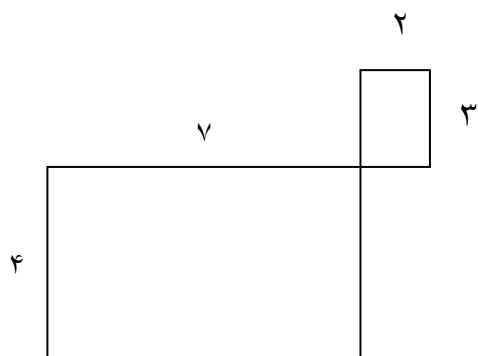

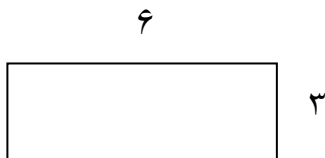


۱- قطرهای شکل های زیر را رسم کن.



۲- مادر مریم ، می خواهد دور یک رومیزی را تور بدوزد. اگر این میز به شکل مربع باشد و هر ضلع این مربع ۳متر باشد .چه قدر تور لازم دارد تا دور این رومیزی بدوزد؟

۳- مساحت شکل های زیر را به دست آورید.



۴- به دور هر شکل آن شکل می گویند.

۵- مساحت یک مستطیل به طول ۹ و عرض ۶ سانتی متر ، چند سانتی متر مربع است ؟

۶- مساحت یک مستطیل چگونه به دست می آید ؟

۷- مساحت یک مربع چگونه به دست می آید ؟

۸- مساحت یک مربع که هر ضلع آن ۸ سانتی متر باشد ، چند سانتی متر مربع است ؟

۹- مساحت یک مستطیل ۳۰ متر مربع است . اگر یک ضلع این مستطیل ۵ باشد ، ضلع دیگر مستطیل چند است ؟

۱۰- مساحت قسمت رنگی را پیدا کن (برای به دست آوردن قسمت رنگی ، اول باید مساحت کل شکل را پیدا کنی و بعد مساحت قسمت رنگ نشده را حساب کن ، سپس پاسخ ها را از هم کم کن)

