



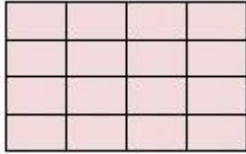


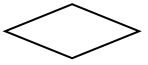


	به نام خداوند بخشنده ی مهربان	تاریخ آزمون: ۹۲/۱۱/۵	مدرسه شاهد شهید بهشتی	الپیاد علمی پایه سوم	نام و نام خانوادگی:
۱		طراح: <u>زهرا رحمان نژاد</u>	زمان آزمون: ۶۰ دقیقه	ستون دین و سفارش خدا چه نامیده می شود؟	
۲	الف) نماز      ب) روزه      ج) صدقه      د) زکات	الله اکبر در اذان و اقامه چند بار گفته می شود؟	الف) ۴ بار در اذان - ۴ بار در اقامه      ب) ۶ بار در اذان - ۶ بار در اقامه	ج) ۶ بار در اذان - ۴ بار در اقامه      د) ۴ بار در اذان - ۶ بار در اقامه	
۳	الف) بخشنده      ب) شهادت      ج) رحیم      د) مهربان	کلمه آشهد یعنی چه؟	کدام یک از موارد زیر در اذان به معنی شتافتن به سوی نماز است؟	الف) اللهُ الْكَبَرُ      ب)حَيَّ عَلَى الصَّلَاةِ      ج)قَدْ قَامَتِ الصَّلَاةُ      د)حَيَّ عَلَى الْفَلَاحِ	
۴	الف) بِحَوْلِ اللَّهِ وَ قُوَّتِهِ أَيْ أَقْوَمُ وَ أَقْعَدُ      ب) سُبْحَانَ اللَّهِ      ج) الْحَمْدُ لِلَّهِ      د) سَمِعَ اللَّهُ لِمَنْ حَمِدَهُ	در قیام نماز چه ذکر می گفته و خوانده می شود؟	هدیه های آسمانی	با خواندن این جمله به یاد کدام ویژگی از حضرت محمد (ص) می افتی؟ (من کسی را دارم که همیشه و همه جا با من است.)	
۵	الف) خدا پرست      ب) امین      ج) شجاع      د) مهربان	پیامبری که به اذن خداوند آتش بر او گلستان شد که بود؟	الف) حضرت محمد (ص)      ب) حضرت نوح (ع)      ج) حضرت ابراهیم (ع)      د) حضرت موسی (ع)		
۶	الف) عاشورا - کربلا      ب) عاشورا - بغداد      ج) تاسوعا - کربلا      د) تاسوعا - مدینه	روز شهادت امام حسین (ع) و سرزمین شهادت ایشان چه نام داشت؟	کارهای خوب و شایسته ای که خداوند به ما دستور داده است، چه می گویند؟	الف) واجب      ب) حرام      ج) عبادت      د) هیچ کدام صحیح نیست	
۷	الف) محرم      ب) صفر      ج) رجب      د) رمضان	در ماه ..... خداوند پاداش های فراوانی به بندگانش می دهد.			



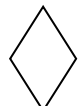

۱۱	این سخن از کیست؟ (بهشت زیر پای مادران است) الف) حضرت علی (ع)      ب) حضرت محمد (ص) ج) امام حسین (ع)      د) امام حسن (ع)
۱۲	معنی این آیه کدام یک از گزینه های زیر است؟ ( وَ قُلْ لَهُمَا قَوْلًا كَرِيمًا ) الف) ای مومنان روزه گرفتن بر شما واجب شد.      ب) صبور باشید که خداوند با صابران است. ج) با پدر و مادر خود به نیکی سخن بگو.      د) ای فرزندم نماز را به پا دار.
۱۳	روز تولد حضرت زینب چه نام دارد؟ الف) روز مادر      ب) روز معلم      ج) روز دختر      د) روز پرستار
۱۴	نمازی که در پایان ماه مبارک رمضان خوانده می شود کدام است؟ الف) نماز آیات      ب) نماز جمعه      ج) نماز جماعت      د) نماز عید فطر
۱۵	مطالعات اجتماعی درست ترین جمله را درباره ی توانایی امسال خود پیدا کنید و علامت بزنید. الف) می توانم غذا بخورم.      ب) می توانم در فعالیت های گروهی با دوستانم همکاری کنم. ج) خواندن و نوشتن کلمات را یاد می گیرم.      د) کفشم را خودم می پوشم.
۱۶	جمله های زیر را بخوانید و سپس به ترتیب زمانی جمله ها را پیدا کنید و علامت بزنید. (هفته بعد می خواهم به گردش بروم. امروز اتاقم را تمیز کردم. سه روز پیش با مادر به بازار رفتیم.) الف) گذشته، حال، آینده      ب) حال، گذشته، آینده      ج) آینده، گذشته، حال      د) آینده، حال، گذشته
۱۷	کدام جمله درست نیست؟ الف) همه ی انسان ها نیاز به محبت دارند.      ب) همه ی انسان ها به آب و غذا و هوا نیازمندند. ج) توانایی همه ی انسانها مثل هم است.      د) همه ی انسان ها را خدا آفریده است.
۱۸	کدام یک از شغل های زیر خدماتی است؟ الف) میوه فروشی      ب) کشاورز      ج) دامپرور      د) باغدار
۱۹	مهمترین نقش خانواده کدام یک از گزینه های زیر است؟ الف) تربیت فرزندان      ب) تهیه مسکن      ج) لباس و خوراک      د) پول دادن
۲۰	کدام یک از موارد زیر جز منابع طبیعی است؟ الف) خاک      ب) نفت      ج) فلزات      د) همه ی موارد صحیح است.
۲۱	نفت ماده ی اولیه ی کدام یک از موارد زیر است؟



	الف) دستمال کاغذی	ب) مداد	ج) لاستیک دوچرخه	د) کمد
۲۲	کدام جمله درست نیست؟ الف) باید مهارت های زندگی را در فرزندان تقویت کنیم. ب) همکاری در کارها به نفع کسی نیست. ج) تقسیم کار باعث می شود که یک نفر خسته نشود. د) کارها زمانی نتیجه خوب خواهد داشت که همکاری باشد.			
۲۳	فارسی	 کدام گزینه مناسب برای جای خالی است؟ فردای آن روز با دوستانم به محل مسابقه ..... الف) شرکت کردیم.      ب) دادیم.      ج) رفتیم.      د) برگزار شد.		
۲۴	..... از دیدن مادرش خوشحال شد. الف) ما      ب) او      ج) تو      د) شما			
۲۵	پدرم فردا به مسافرت ..... الف) خواهد رفت.      ب) خواهند رفت.      ج) خواهم رفت.      د) خواهیم رفت.			
۲۶	کدام کلمه از خانواده خوش نیست؟ الف) خوش زبان      ب) خوش آواز      ج) خشک      د) خوش رنگ			
۲۷	مخالف کلمه <u>بخشنده</u> کدام گزینه است؟ الف) مهربان      ب) خسیس      ج) اسراف کار      د) جواد			
۲۸	کدام کلمه هم با (ها) و هم با (ان) جمع بسته می شود؟ الف) صندلی      ب) خانه      ج) خط کش      د) کودک			
۲۹	هم معنی کلمات ( صحرا - کشتزار - خویشان ) به ترتیب کدام گزینه است؟ الف) بیابان - جنگل - دوستان      ب) دشت - محل کشت - فامیل ج) بیابان - محل کشت - خانواده      د) بیابان - محل کشت - خانواده			
۳۰	کدام کلمه مناسب جای خالی است؟ ( بازار - اذان - ..... - ظلم ) الف) غذا      ب) ظهر      ج) ظاهر      د) رضا			
۳۱	در متن زیر چند غلط املائی وجود دارد؟ صهام با اشتیاق در مدرسه صبت نام کرد، ولی به علت آواز جنگ تمیلی و اشقال شهر نتوانست به مدرسه برود. الف) ۷      ب) ۴      ج) ۲      د) ۶			
۳۲	کدام گزینه با بقیه فرق دارد؟			

	الف) هنوز دوقورت و نیش باقیست. ج) هر چه کنی، به خود کنی.	ب) کودکان امروز، آینده سازان فردا د) قطره قطره جمع گردد وانگهی دریا شود.
۳۳	الف) ناصر کشاورز ب) نسرین صمصامی ج) پروین اعتصامی	د) محمد رضا سنگری
۳۴	ارتباط کلمات در کدام گزینه نادرست است؟ الف) نقاشی - قلم مو - بوم نقاشی ج) دندان پزشک - آینه - دندان	ب) بنا - آجر - سیمان د) گچ - تخته - بیمارستان
	علوم	
۳۵	الف) جامد ب) مایع ج) گاز د) هیچ کدام	هوای داخل اتاق چه حالتی دارد؟
۳۶	الف) به یک حالت باقی نمی ماند. ج) به یک حالت هستند.	مواد همیشه ..... ب) در محیط سرد تغییر شکل می دهند. د) ثابت هستند و تغییر نمی کنند.
۳۷	الف) نوزادی ب) نوجوانی ج) جوانی د) پیری	جرم بدن انسان در کدام دوران کمتر است؟
۳۸	الف) شکل ب) مواد تشکیل دهنده ی آن ج) اندازه د) رنگ	جرم هر ماده به چه چیزی بستگی دارد؟
۳۹	الف) آب دریا ب) آب رودخانه ج) آب چاه د) آب لوله کشی	کدام یک از آب های زیر برای آشامیدن مناسب است؟
۴۰	الف) به ندرت ب) همیشه ج) اغلب اوقات د) گاهی	در هوا .....مقداری بخار آب وجود دارد.
۴۱	الف) گلر می رزیم . ج) به آرامی از شن و ماسه عبور می دهیم.	برای آن که گل و لای آب را بگیریم ..... ب) درون سطل می ریزیم. د) با فواره به هوا می پاشیم.
۴۲	الف) صید ماهی ب) کشتیرانی ج) به دست آوردن نفت و نمک د) همه موارد	از دریا چه استفاده ای می کنیم؟

۴۳	آب باران به کجا می رود؟ الف) قسمتی از آن بخار می شود. ج) بر روی زمین جاری می شود.	ب) قسمتی از آن در زمین فرو می رود. د) هر سه مورد
۴۴	هنگامی که هوا ..... می شود قطرات آب به زمین می افتد. الف) سرد ب) گرم ج) مرطوب د) خشک	
۴۵	ریاضی این شکل را با چند الگو می توان چند تا چند تا شمرد؟ الف) یک الگو ب) دو الگو ج) سه الگو د) چهار الگو	 
۴۶	کدام شکل خط تقارن بیشتری دارد؟ الف)  ب)  ج)  د) 	
۴۷	ساعت ۴ بعد از ظهر است، دو ساعت بعد ساعت چند است؟ الف) ۲۴ ب) ۲۲ ج) ۲۰ د) ۱۸	
۴۸	چند عدد سه رقمی می توان نوشت که رقم صدگان ۸ و رقم دهگان ۶ یا ۵ و رقم یکان ۴ یا ۰ باشد. الف) ۶ تا ب) ۵ تا ج) ۴ تا د) ۳ تا	
۴۹	اگر الگوی زیر را ادامه دهیم به جای <input type="text"/> چه عددی باید بنویسیم. ۸-۱۳-۱۹-.....-.....-..... - <input type="text"/> الف) ۱۸ ب) ۲۳ ج) ۴۳ د) ۵۳	
۵۰	مریم دختر خوب و با ایمانی است او در ۴ شبانه روز چند نوبت نماز می خواند؟ الف) ۴ ب) ۵ ج) ۹ د) ۲۰	
۵۱	مسعود دارای ۴ خواهر است و هر خواهر او یک برادر دارد. آن ها در کل چند خواهر و برادر هستند؟ الف) ۹ ب) ۵ ج) ۸ د) ۴	
۵۲	پارچه فروشی یک توپ پارچه ۳۰ متری را به ۵ قسمت مساوی تقسیم کرد. او مجبور شد با قیچی چند برش به پارچه بزند؟ الف) ۶ تا ب) ۵ تا ج) ۴ تا د) ۳ تا	
۵۳	مجموع بزرگترین عدد سه رقمی و کوچکترین عدد ۴ رقمی کدام است؟ الف) ۱۰۹۹۹ ب) ۱۰۱۰ ج) ۱۹۹۹ د) ۱۰۰۰	
۵۴	کدام یک از راه های زیر طولانی تر است؟	

الف) ۸۰۱۰ متر	ب) ۹ کیلومتر	ج) ۴۳۰۰ متر	د) ۸ کیلومتر و ۱۵۰ متر
۵۵	کمترین مقدار پول در کدام گزینه نوشته شده است؟		
الف) ۹۱۵۶ ریال	ب) ۹۱۵۰ ریال	ج) ۶۵۴۰ ریال	د) ۶۵۴۹ ریال
۵۶	کتاب خانه ی کلاسی ۴۵ کتاب دارد. $\frac{1}{9}$ این کتاب ها داستانی است و بقیه علمی بود. چند جلد از این کتاب های این کتاب خانه علمی است؟		
الف) ۵	ب) ۳۴	ج) ۴۰	د) ۴۴
۵۷	عدد های کسری کدام گزینه با هم برابرند؟		
الف) $\frac{1}{2} = \frac{2}{4}$	ب) $\frac{3}{8} = \frac{3}{6}$	ج) $\frac{1}{9} = \frac{5}{9}$	د) $\frac{3}{14} = \frac{2}{7}$
۵۸	فاطمه و معصومه خواهر هستند. فاطمه ۳ ساله و سن معصومه پنج برابر سن فاطمه می باشد. آن ها روی هم چند سال سن دارند؟		
الف) ۸	ب) ۱۵	ج) ۱۸	د) ۱۲
۵۹	حاصل عبارت مقابل چه عددی است؟		
الف) ۳۲	ب) ۳۰	ج) ۲۷	د) ۲۴
۶۰	در کدام شکل فقط دو خط موازی وجود دارد؟		
الف) 	ب) 	ج) 	د) 
صحبت در گوشی من با مامان و بابا : از قاطع بودن با من نترسید، من قاطعیت را ترجیح می دهم. زیرا به من اجازه می دهد بدانم کجا ایستاده ام.			
تعداد سوالات : ۶۰	تعداد جواب های صحیح :	تعداد جواب های اشتباه :	رتبه در آموزشگاه :
	رتبه در آموزشگاه :	رتبه در کلاس :	

