

۱ - جمله های زیر را با کلمه های مناسب کامل کن .

علی دست و صورتش را ..... ( می شوید - می شویند )

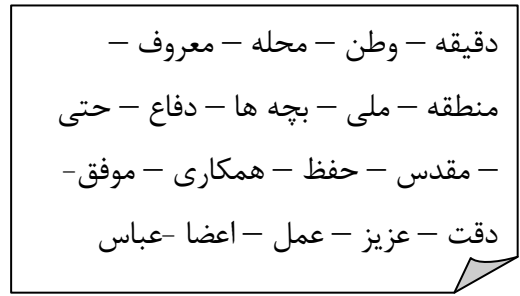

مادر از بازار ..... ( آمدیم - آمد ) ..... به مسافرت می روید . ( او - شما )

۲ - با توجه به معنی ، املا ی کدام کلمه صحیح نیست ؟ آن را پیدا کن و صحیح آن را بنویس .

الف : حفظ = نگه داری      ب: برخواست = بلند شد      ج : بحث = گفتگو

د : رزمنده = جنگجو .....

۳ - کلمه هایی که نیاز به تشدید دارند را جدا کن و با تشدید در کادر زیر بنویس .



۴ - با توجه به متن درس " ایران آباد " به پرسش ها پاسخ بده . ( ابتدا متن درس را یک بار با دقت بخوان )

الف : نگهبانان اصلی وطن چه کسانی هستند؟ .....

ب : از چه چیزی درس های زیادی می توان آموخت؟ .....

ج: چه چیزهایی گنجینه ای با ارزش هستند؟ .....

د : ما چگونه موفق می شویم ؟ .....

۵ - جاهای خالی را با توجه به شعر " وطن " کامل کن .

ما ..... گلستانیم      همه ..... گریزانیم

راست گوی و ..... درست پیمانیم      بی خبر از ..... بهتانیم

۶ - راز خوشبختی و پیروزی چیست ؟ ( با توجه به حکایت راز جعبه) .....

۷ - کدام کلمه با بقیه فرق دارد؟

الف : کلاس      ب: تخته سیاه      ج: دانش آموز      د: پرستار

۸ - شاعر در شعر " نقاش دنیا " گفته چه کسی دل تنگی گل را شفا می دهد؟

الف : چکاوک      ب: بلبل      ج : کلاغ      د : کبوتر

۹ - امام سجاد فرزند کدام امام بزرگوار است؟

۱۰ - وقتی حضرت فاطمه (س) به دنیا آمد، کدام سوره به پیامبر نازل شد؟

۱۱ - در تسبیحات حضرت زهرا (س) هر ذکر را چند بار می گوئیم؟

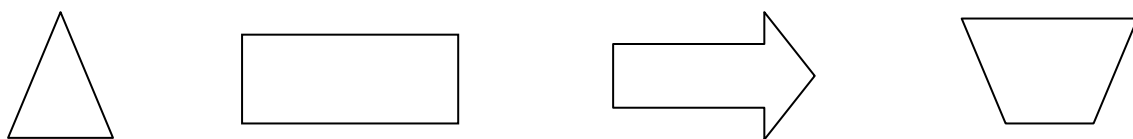
الله اکبر      الحمد لله      سبحان الله

۱۲ - شعله ی بخاری باید چه رنگی باشد؟

شماره تلفن های ضروری زیر را بنویس.

اورژانس..... پلیس..... راهنمای تلفن..... آتش نشانی.....

۱۳ - خط تقارن شکل های زیر را بکش.



۱۴ - مساحت مستطیلی ۳۰ سانتی متر است. اگر طول آن ۶ باشد عرض آن چند است؟

۱۵ - در جدول زیر، تعداد انواع کتاب های یک کتابخانه آورده شده است. با توجه به جدول به سوالات پاسخ بده.

نوع کتاب	علمی	داستانی	مذهبی	شعر	درسی	هنری
تعداد کتاب	۵۱	۴۹	۳۶	۱۹	۲۵	۱۷

الف : کدام نوع کتاب از همه بیشتر است؟

ب: چند جلد کتاب علمی و درسی دارد؟

ج: این کتابخانه چند جلد کتاب دارد؟

۱۶ - محیط یک مثلث متساوی الاضلاع که هر ضلع آن ۵ است ، چند می شود؟

۱۷ - محیط یک مثلث متساوی الاضلاع ۲۷ سانتی متر است . اندازه ی هر ضلع آن چند است ؟

۱۸ - طول یک ضلع مربع ۶ سانتی متر است . مساحت و محیط این مربع را حساب کنید.

۱۹ - ضرب هایی که حاصل آن ۳۶ می شود را بنویس.

۲۰ - ضرب هایی را که حاصل آن ها ۲۴ می شود را بنویس.

۲۱ - با کشیدن شکل ثابت که  $\frac{1}{2} = \frac{2}{4} = \frac{4}{8}$  است .

۲۲ - امین هر روز ساعت ۱۶ تکالیفش را انجام میدهد و ۱ ساعت و ۳۰ دقیقه بعد آن ها را به پایان می رساند. او هر روز در چه ساعتی از بعدازظهر تکالیفش را تمام می کند؟

۲۳ - پدر علی هر هفته ۵ روز به اداره می رود . او در ۴ هفته چند روز به اداره می رود؟

۲۴ - مریم ۴۸ گردو را در ۶ کیسه ریخت . در هر کیسه چند گردو ریخته است؟

امام حسن عسگری(ع) می فرمایند:

شوخی زیاد ارزش انسان را کم می کند.

پاسخ نامه

۲- برخاست = بلند شد

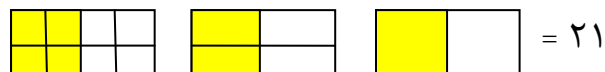
۴- الف : همه ی کسانی که در مناطق مرزی زندگی می کنند      ب: تاریخ

ج: زبان های محلی      د: اگر همیشه یاور هم باشیم و از خدای بزرگ یاری بجوییم

۹- امام حسین (ع)      ۱۰- سوره ی کوثر      ۱۴- ۳۰ تقسیم بر ۶ مساوی ۵

۱۵- الف : علمی      ب: ۷۶      ج: ۱۹۷      ۱۶- پانزده      ۱۷- ۲۷ تقسیم بر ۳ مساوی ۹

۱۸- مساحت =  $۶ \times ۶$  در ۶ مساوی ۳۶      محیط =  $۶ \times ۴$  در ۴ مساوی ۲۴



۲۲- ۵ونیم بعد از ظهر      ۲۳- ۵ ضربدر ۴ مساوی ۲۰

۲۴- ۴۸ تقسیم بر ۶ مساوی ۸