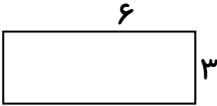


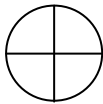


۱	جمع و تفریق زیر را انجام دهید. $\begin{array}{r} 4780 \\ + 3422 \\ \hline \end{array}$ $\begin{array}{r} 1450 \\ - 999 \\ \hline \end{array}$
۲	ضرب و تقسیم های زیر را انجام دهید. $\begin{array}{r} 703 \\ \times 9 \\ \hline \end{array}$ $\begin{array}{r} 538 \\ \times 4 \\ \hline \end{array}$ $\begin{array}{r} 24 \\ 4 \\ \hline \end{array}$ $\begin{array}{r} 56 \\ 8 \\ \hline \end{array}$
۳	مساحت شکل های زیر را بدست آورید.  
۴	دور اعداد زوج خط بکشید. ۷ ۱۳ ۲۱ ۸۰ ۳۶ ۴۵ ۶۲
۵	۷ کیلومتر چند متر است؟ ۸۹۰۰ گرم چند کیلوگرم و چند گرم است؟ ثلث ۱۸ چه عددی می باشد؟ اگر شعاع دایره ای ۴ سانتی متر باشد قطر آن چقدر می شود؟
۶	جواب ضرب و تقسیم های زیر را بنویسید. $(5 \times 6) + 5 = \dots\dots\dots$ $(7 \times 4) + 8 = \dots\dots\dots$ $54 \div 6 = \dots\dots\dots$ $24 \div 8 = \dots\dots\dots$ $18 \div 3 = \dots\dots\dots$ $72 \div 8 = \dots\dots\dots$ $(6 \times 7 \times 0) = \dots\dots\dots$
۷	در هر یک از مربع های زیر یکی از نماد $< = >$ را که مناسب است قرار دهید. $5421 - 42$ <input type="checkbox"/> 524 $3 + 21$ <input type="checkbox"/> $6 + 18$
۸	عدد زیر را به رقم و حروف بنویسید. پنج هزار و چهارصد و بیست هزار و صد و بیست و پنج ۷۰۹۰۸۰
۹	کسر رنگی مربوط به هر کسر را بنویسید.  
۱۰	مادر محسن خیاطی می کند. او برای هر پیراهن ۵ دکمه می دوزد. برای ۷ پیراهن به چند تا دکمه نیاز دارد؟
۱۱	۴ یکی و ۶ ده تایی و ۷ صدتایی و ۳ هزار تایی می شود