


تکلیف اوقات فراغت پایه اول



نام و نام خانوادگی :

کلاس :

دبستان شهید بهشتی (شاهد)

داستان را بخوان و کارهایی را که از تو خواسته شده، انجام بده.

ژاله و مژگان خواهرهای دوقلو هستند. آن‌ها هفت سال دارند و در کلاس اول دبستان درس می‌خوانند.

یک روز حوصله ی ژاله و مژگان سررفته بود. آن‌ها به مادرشان گفتند: ما چه کار کنیم؟ مادر به آن‌ها یک بسته ماژیک و یک دفتر داد و گفت: شما می‌توانید با هم نقاشی بکشید، آن‌ها اول به آشپزخانه رفتند و شکل چهارتا از وسایل آشپزخانه را کشیدند. تو می‌توانی حدس بزنی شکل چه چیزهایی را کشیده‌اند؟ آن‌ها را بکش و نامشان را بنویس.

.....

سپس به اتاق خود رفتند و شکل چهارتا از اسباب بازی هایشان را کشیدند. تو هم می‌توانی این کار را انجام دهی؟

.....

بعد به ظرف میوه ای که روی میز بود نگاه کردند و شکل میوه‌ها را کشیدند. تو فکر می‌کنی چه میوه‌هایی داخل ظرف بود؟ آن‌ها را بکش. دانه‌های کدام میوه بیشتر است؟

.....

ژاله گفت ما می توانیم شکل جانوران را هم بکشیم. تو شکل چه جانورانی را می توانی بکشی؟

.....
-------	-------	-------	-------

می توانی بگویی این جانورانی که کشیده ای، چگونه حرکت می کنند؟ کجا زندگی می کنند و چه چیزی می خورند؟ اگر می توانی جدول زیر را کامل کن.

نام جانور	چگونه حرکت می کند؟	کجا زندگی می کند؟	چه چیزی می خورد؟
.....
.....
.....
.....

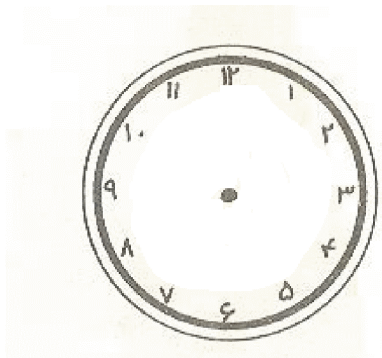
تعداد دست و پاهای حیواناتی را که کشیده ای بشمار و بنویس.....

ژاله و مزده خوش حال بودند که سرگرم شده اند و نقاشی های زیبایی هم کشیده اند. ساعت ۵ عصر شد. بابا از بیرون آمد، بچه ها نقاشی هایشان را به پدر و مادرشان نشان دادند. آن ها گفتند: به به! چه زیبا کشیده اید! آفرین به دخترهای هنرمندما! بعد پدر گفت: حال آماده شوید تا با هم به بوستان نزدیک خانه برویم. دخترها از پدر و مادر خود سپاس گزاری کردند.

ساعتی را که پدر از بیرون آمد را نشان بده.

آن ها تصمیم گرفته بودند به کجا بروند؟

تو وقتی حوصله ات سر می رود چه کار میکنی؟



متن زیر را بخوان و در جاهای خالی کلمه های مناسب بنویس.

هر سال..... فصل دارد: بهار، تابستان، پاییز و زمستان

..... اولین فصل سال است. بهار فصل گل و شکوفه است.

در تابستان آسمان صاف و آفتابی است و هوا می شود.

بیشتر مردم در تابستان به مسافرت.....

در فصل پاییز برگ درختان و مدرسه ها می شوند.

در فصل زمستان و زیادی می بارد.

خدای مهربان این فصل های زیبا را برای ما آفریده است.

به سؤال های زیر پاسخ بده

تو چه فصلی را بیشتر از همه دوست داری؟

من در فصل ، ماه ، روز سال در شهر.....

بیمارستان به دنیا آمده ام.

فصلی که تو به دنیا آمده ای، هوا چگونه است؟.....

منظره ی فصلی را که دوست داری بکش.

سه کلمه ی یک بخشی بنویس.

سه کلمه دو بخشی بنویس.

سه کلمه ی سه بخشی بنویس.

سه کلمه ی بی نقطه بنویس.

سه کلمه با (می) بنویس.

سه کلمه با (خوا) بنویس.

سه کلمه با (و ←) بنویس.

سه کلمه ی تشدید دار بنویس.

سه کلمه بنویس که صدای اول و آخر آن ها مثل هم باشد.

برای هر نشانه ۵ کلمه بنویس.

پ پ :

ج ج :

چ چ :

خ خ :

ژ :

ش ش :

ص ص :

ز :

ک ک :

گ گ :

ف ف :

ق ق :

ن ن :

ه ه ه ه :

ی ی :

و :

ل ل :

ذ :

کدام یک (_) ربط و یا (ی) :

کو بلند - لانه پرندگان - کتاب شاهنامه - آهو قشنگ - دریا خزر - پشم گوسفندان

به کدام کلمه ها می توانیم (ای) اضافه کنیم؟

تازه	کلمه	خانه	ماه
روزنامه	نگاه	نَه	ستاره

جدول را کامل کن.

چندتا	یکی
زن ها - زنان	زن
	درخت
	جانور
	پرنده
	ستاره
	ماهی
	دختر
	رزمنده
	کوه
	بچه

مخالف کلمه های زیر را بنویس.

روز ≠	بالا ≠	زیبا ≠	نادان ≠
بیدار ≠	سَبک ≠	سرما ≠	کم ≠
می خورم ≠	خنده ≠	خاموش ≠	باز ≠
بداخلاق ≠	آخر ≠	آسان ≠	تلخ ≠

با کلمه های زیر بساز:

عید نوروز:

شالیزار:

صابون:

فروشگاه:

قنّادی:

مخصوص:

می خواهد:

می خوانیم:

پژمرده:

دو چرخه:

می گذارم:

لذّت:

سپاس گزاری:

معلّم:

دّعا:

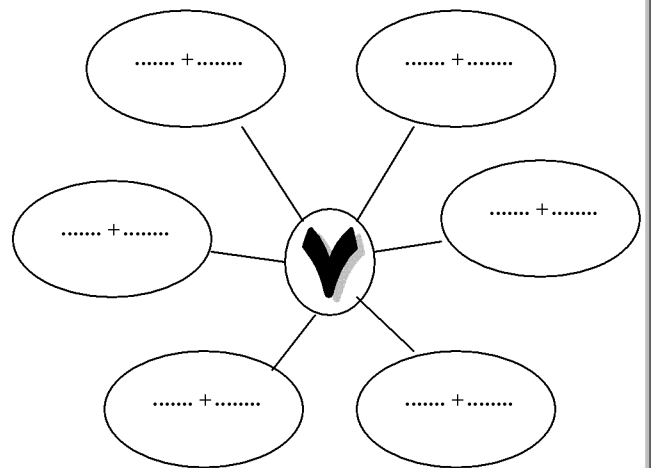
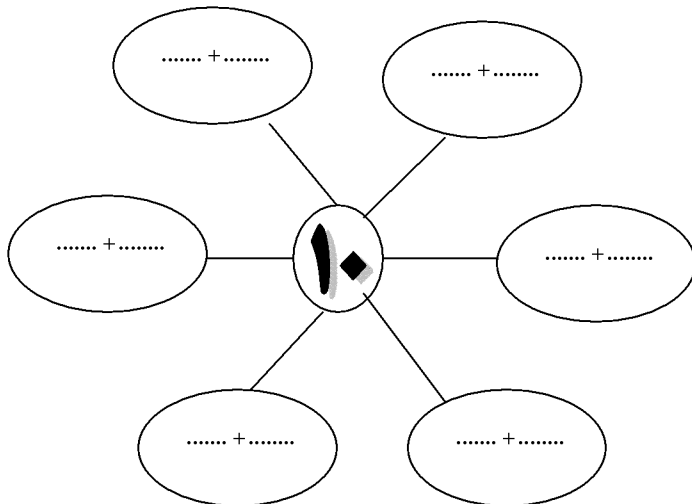
جاهای خالی را با عددهای مناسب کامل کن.

$۲۰+۵ = \dots\dots\dots$	$۱۰+۱۰+۵+۱۰ = \dots\dots\dots$	$۵+۵+۲۰+۴ = \dots\dots\dots$
$۱۰-۸ = \dots\dots\dots$	$۴۰-۲۰ = \dots\dots\dots$	$۸۰-۵۰ = \dots\dots\dots$
$۳۰+۳۰ = \dots\dots\dots$	$۱۰+۵۰+۵ = \dots\dots\dots$	$۲۰+۵-۲ = \dots\dots\dots$

مربع شگفت انگیز را کامل کن.

۹	۴	۲	۶	۷	۸	۳	۱	
۳		۱	۹	۵	۲	۴		۸
۸	۵		۴		۱		۲	۹
	۷	۴	۳	۱		۸	۹	۲
۸	۵	۳	۷		۹	۱		۴
۱	۲	۹		۴	۶	۵	۳	۷
۷	۳		۱	۹	۴	۲	۵	
	۹	۶	۵		۳	۷		
۴	۱	۵	۲	۶	۷	۹	۸	۳

جمع های مربوط به هر عدد را بنویس.



برای هر عدد شکل بکش.

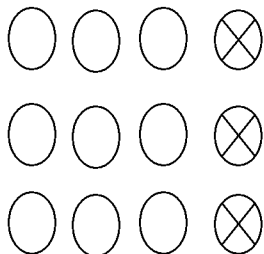
۵۷

۱۵

۳۰

$$\begin{array}{r} - \quad - \quad 80 \quad - \quad 90 \\ \underbrace{\hspace{1.5cm}} \quad \underbrace{\hspace{1.5cm}} \\ -10 \quad -10 \end{array}$$

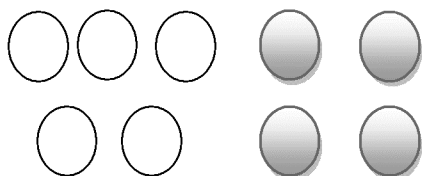
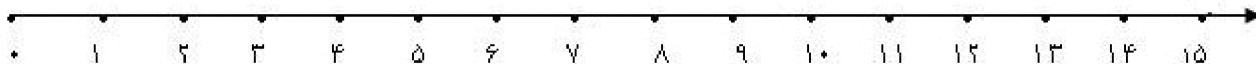
برای شکل های زیر مسئله بساز و راه حل را با محور نشان بده.



.....

.....

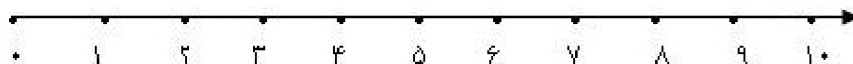
.....



.....

.....

.....



با عددهای ۷ و ۸ یک مسئله ی جمع (+) بساز.

.....

.....

.....

با عددهای ۳ و ۱۷ یک مسئله ی تفریق بساز.

.....

.....

.....